

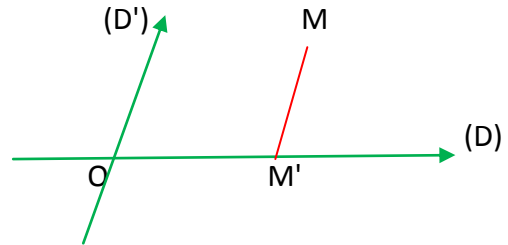
# LA PROJECTION DANS LE PLAN

## 1- PROJECTION SUR UNE DROITE PARALLELEMENT A UNE DROITE

### 1-1- DEFINITION

Soient (D) et (D') deux droites non parallèles (sécantes), on appelle projection sur (D) parallèlement à (D'), la relation p qui lie tout point M du plan (P) au point (M') de (D) tel que M' est l'intersection de (D) et la parallèle à (D') passant par M. le point M' est appelé le projeté de M sur (D) parallèlement à (D').

$$\begin{aligned}
 p: (P) &\longrightarrow (D) \\
 M &\longrightarrow p(M) = M'
 \end{aligned}$$



### 1-2-REMARQUE

- i – si  $M \in (D)$  alors  $p(M) = M$
- ii – si  $M \in (D')$  alors  $p(M) = O$

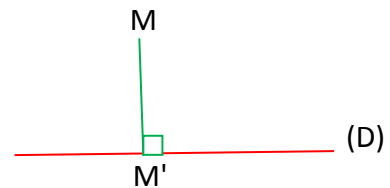
## 1-3- PROJECTION ORTHOGONALE SUR UNE DROITE

### DEFINITION

Soit (D) une droite du plan (P). on appelle projection orthogonale sur (D), la projection p définit par,

$$\begin{aligned}
 p: (P) &\longrightarrow (D) \\
 M &\longrightarrow p(M) = M'
 \end{aligned}$$

où M' est l'intersection de (D) avec la perpendiculaire passant par M. le point M est appelé la projection orthogonale de M sur (D)

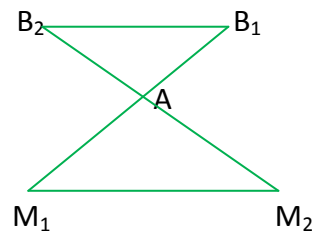
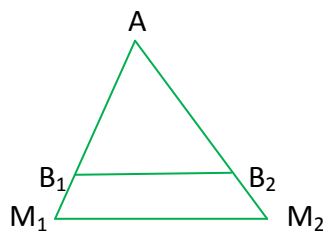


## 2- THEOREME DE THALES

### 2-1- PROPRIETE

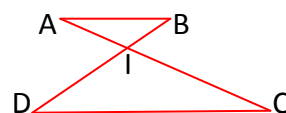
Soient (D<sub>1</sub>) et (D<sub>2</sub>) deux droites sécantes au point A, et soient B<sub>1</sub> et M<sub>1</sub> deux points de (D<sub>1</sub>) différents de A. Soient B<sub>2</sub> et M<sub>2</sub> deux points de (D<sub>2</sub>) différents de A.

$$\text{si } B_1B_2 \parallel M_1M_2 \quad \text{alors} \quad \frac{AM_1}{AB_1} = \frac{AM_2}{AB_2} = \frac{M_1M_2}{B_1B_2}$$



### 2-2- EXERCICE

Considérons la figure suivante, on a (AB)//(CD), DI=54, IA=9, IC=45, IB=x  
Calculer x



## 2-3- LA RECIPROQUE DU THEOREME DE THALES

### 2-3-1 PROPRIETE

# LA PROJECTION DANS LE PLAN

---

Soient  $(D_1)$  et  $(D_2)$  deux droites sécantes en A, et soient B et M deux points de  $(D_1)$  différents de A, soient N et C deux points de  $(D_2)$  différents de A. Si les points A, M et B, et si les points

A, N et C sont dans le même ordre et  $\frac{AM}{AB} = \frac{AN}{AC}$  alors  $BC \parallel MN$



## 2-3-2- EXERCICE

Soit ABC un triangle (DB) et (CE) se coupent en A, tel que  $AD=21$ ,  $AB=14$ ,  $AC=22$ ,  $AE=33$

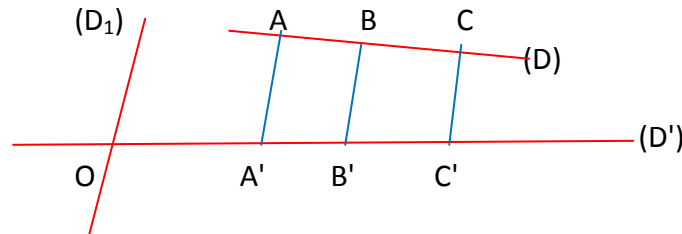
Montrer que  $(BC) \parallel (ED)$

## 3- THEOREME DE THALES PAR LA PROJECTION

### 3-1-PROPRIETE

Soient  $(D)$  et  $(D')$  deux droites non parallèles à une troisième droite  $(D_1)$ . Soient A et B deux points différents de  $(D)$  et les points  $A'$ ,  $B'$  et  $C'$  sont respectivement les projetés des points

A, B et C sur  $(D')$  parallèlement à  $(D_1)$ , alors  $\frac{AC}{AB} = \frac{A'C'}{A'B'}$



## 3-2-CONSERVATION DE LA COLINEARITE DES VECTEURS

### 3-2-1- PROPRIETE

Soient  $(D)$  et  $(D')$  deux droites sécantes au point O, et  $\vec{AB}$  et  $\vec{EF}$  deux vecteurs colinéaires

tels que  $\vec{AB} = \alpha \vec{EF}$ . si  $A'$ ,  $B'$ ,  $E'$  et  $F'$  sont respectivement les projetés de A, B, E et F sur la

droite  $(D')$  parallèlement à  $(D)$  alors  $\vec{A'B'} = \alpha \vec{E'F'}$

