

1-RAPPEL

1-1-NOMBRE DERIVE-FONCTION DERIVEE

1-1-1-DEFINITION

Soit f une fonction définie sur un intervalle ouvert I , et x_0 un élément de I

i- on dit que f est dérivable en x_0 , s'il existe un réel L tel que : $\lim_{x \rightarrow x_0} \frac{f(x) - f(x_0)}{x - x_0} = L$, le

nombre L est appelé le nombre dérivé de f en x_0 , et noté $f'(x_0)$

ii- On dit que f est dérivable sur I , si elle est dérivable en tout point de I , la fonction f' est appelée la fonction dérivée de f

1-1-2-PROPRIETE

Si f est dérivable en x_0 , alors f est continue en x_0

1-1-3-PROPRIETE

Soit f une fonction dérivable en x_0 , l'équation de la tangente (T) de la courbe (C_f) au point

$A(x_0, f(x_0))$ est : $y = f'(x_0)(x - x_0) + f(x_0)$

1-1-4-EXERCICE

$$\text{Soit } \begin{cases} f(x) = x^2 - \frac{3}{2}x; x \geq 1 \\ f(x) = \frac{-1}{2x}; x < 1 \end{cases}$$

1- déterminer D_f , étudier les limites aux bornes de D_f

2- étudier la continuité de f au point (1)

3- étudier la dérivabilité de f au point (1), déterminer les demi-tangentes au point (1)

4- étudier les variations de f , tracer (C_f)

1-2- LES OPERATIONS SUR LES FONCTIONS DERIVEES

1-2-1-PROPRIETE

Soient f et g deux fonctions dérivables sur un intervalle ouvert I , et k un réel.

i- les fonctions $(f+g)$, $(f \cdot g)$ et $(k \cdot f)$ sont dérivables sur I , et on a : $(f + g)' = f' + g'$

$$(f \cdot g)' = f' \cdot g + f \cdot g' \quad \text{et} \quad (k \cdot f)' = k \cdot f'$$

ii- si $(\forall x \in I) \quad g(x) \neq 0$, alors f/g et $1/g$ sont dérivables sur I , et on a : $\left(\frac{1}{g}\right)' = \frac{-g'}{g^2}$ et

$$\left(\frac{f}{g}\right)' = \frac{f' \cdot g - f \cdot g'}{g^2}$$

2-DERIVEE DE LA COMPOSEE DE DEUX FONCTIONS

2-1-PROPRIETE

Soient f une fonction définie et dérivable sur I , et g une fonction définie et dérivable sur J , tel que $f(I) \subset J$. la fonction $g \circ f$ est dérivable sur I , et sa dérivée est

$$(g \circ f)'(x) = g'(f(x)) \cdot f'(x)$$

2-2-RESULTAT

i- si f est dérivable sur I , alors $(\forall n \in \mathbb{N}^*) \quad (f^n)'(x) = n \cdot f^{n-1}(x) f'(x)$ (composée de $g(x)=x^n$ et de f)

ii- si f est dérivable sur I et $f(x) > 0$, alors $(\sqrt{f(x)})' = \frac{f'(x)}{2\sqrt{f(x)}}$ (composée de $g(x) = \sqrt{x}$ et de f)

2-3-EXERCICE

Calculer la dérivée de f dans les cas suivants :

i - $f(x) = \cos(x^2 + 7x - 6)$

ii - $f(x) = \sqrt{x^3 + x - 3}$

iii - $f(x) = \sin\left(\frac{x+1}{x-1}\right)$

iv - $f(x) = \sqrt{\tan(x)}$

3-DERIVEE DE LA FONCTION RECIPROQUE

3-1-PROPRIETE

Soit f une fonction continue et strictement monotone sur un intervalle ouvert I .

i- si f est dérivable en x_0 et $f'(x_0) \neq 0$, alors f^{-1} est dérivable en $f(x_0)$, et on a :

$$(f^{-1})'(f(x_0)) = \frac{1}{f'(x_0)}$$

ii- si f est dérivable sur I , et $(\forall x \in I); f'(x) \neq 0$, alors f^{-1} est dérivable sur $f(I)$ et

$$(\forall y \in f(I)); (f^{-1})'(y) = \frac{1}{f'(f^{-1}(y))}$$

Démonstration

On a $f(x) = y \Leftrightarrow x = f^{-1}(y)$ et $(f^{-1} \circ f)(x) = x$ donc

$$(f^{-1} \circ f)'(x) = 1 \Leftrightarrow (f^{-1})'(f(x)) \cdot f'(x) = 1. \text{ on remplace } f(x) \text{ par } y \text{ et } x \text{ par } f^{-1}(y).$$

3-2-RESULTAT

Soit $f(x) = \sqrt[n]{x}$ et n un entier naturel non nul. La fonction est dérivable sur $]0, +\infty[$, et sa dérivée est : $f'(x) = \frac{1}{n(\sqrt[n]{x})^{n-1}}$

Démonstration :

3-3-PROPRIETE

Soit u une fonction dérivable et strictement positive sur un intervalle ouvert I , et n un entier naturel non nul, alors la fonction $g(x) = \sqrt[n]{u(x)}$ est dérivable sur I , et sa dérivée est :

$$g'(x) = \frac{u'(x)}{n(\sqrt[n]{u(x)})^{n-1}}$$

3-4-PROPRIETE

Si f est dérivable et strictement positive sur I , alors on a : $(\forall r \in \mathbb{Q})$

$$(f^r)'(x) = r \cdot f^{r-1}(x) \cdot f'(x)$$

3-5-EXERCICE

1-Calculer la dérivée de $f(x) = \sqrt[3]{(3x^2 - 4x)^2}$

2- Soit $f(x) = \sqrt[3]{x^2 + x - 2}$

a- déterminer D_f et calculer les limites aux bornes de D_f

b- étudier les variations de f

3- Soit $f(x) = \sqrt[3]{x} - \sqrt[3]{x^2} - x$

a- déterminer D_f et calculer les limites aux bornes de D_f

b- calculer la dérivée de f

4-REPRESENTATION GRAPHIQUE

4-1-RAPPEL

4-4-1-ASYMPTOTE PARALLELE A L'AXE DES ORDONNEES

DEFINITION

Si $\lim_{x \rightarrow a} f(x) = \pm\infty$, alors on dit que la droite d'équation $x=a$ est une asymptote à la courbe (C_f) , et elle est parallèle à l'axe des ordonnées

4-4-2- ASYMPTOTE PARALLELE A L'AXE DES ABSCISSES

DEFINITION

Si $\lim_{x \rightarrow \pm\infty} f(x) = a$, alors on dit que la droite d'équation $y=a$ est une asymptote à la courbe (C_f) , et elle est parallèle à l'axe des abscisses

4-4-3-ASYMPTOTE OBLIQUE

DEFINITION

Si $\lim_{x \rightarrow \pm\infty} f(x) - (ax + b) = 0$ où $a \neq 0$, alors on dit que la droite $y=ax+b$ est une asymptote oblique à la courbe (C_f) au voisinage de $\pm\infty$

PROPRIETE

La droite d'équation $y=ax+b$ est une asymptote à la courbe (C_f) au voisinage de $\pm\infty$ si :

$$\lim_{x \rightarrow \pm\infty} \frac{f(x)}{x} = a \quad \text{et} \quad \lim_{x \rightarrow \pm\infty} f(x) - ax = b$$

EXERCICE

Soit $f(x) = x + 1 - \sqrt{x^2 - 2x}$

1-déterminer D_f , calculer les limites aux bornes de D_f

2-étudier la dérivabilité de f à droite de (2) et à gauche de (0), et donner une interprétation géométrique du résultat

3-étudier les variations de f

4- déterminer l'asymptote oblique de la courbe (C_f) au voisinage de $-\infty$

5- étudier la position relative de l'asymptote oblique et la courbe (C_f) , tracer (C_f)

6- soit g la restriction de f sur $[2, +\infty[$

a- montrer que g admet une fonction réciproque

b- déterminer g^{-1} , tracer $(C_{g^{-1}})$

4-2-BRANCHES PARABOLIQUES

4-2-1-DEFINITION

i- Si $\lim_{x \rightarrow \pm\infty} \frac{f(x)}{x} = 0$, alors on dit que la courbe (C_f) admet une branche parabolique de direction l'axe des abscisses au voisinage de $\pm\infty$

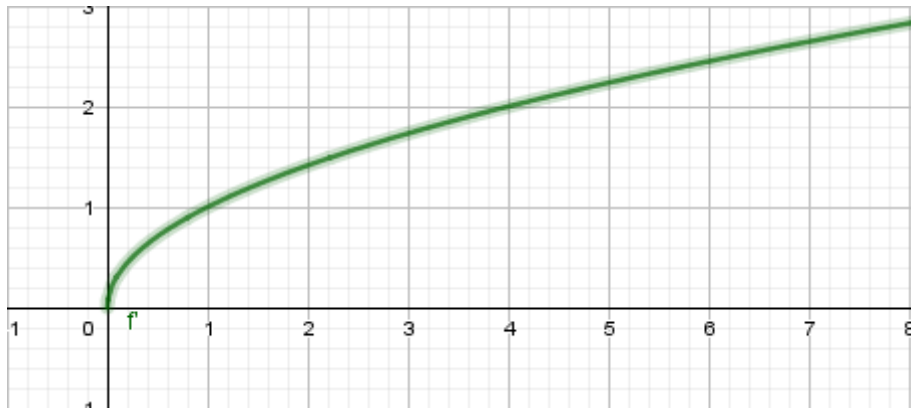
ii- si $\lim_{x \rightarrow \pm\infty} \frac{f(x)}{x} = \pm\infty$, alors on dit que la courbe (C_f) admet une branche parabolique de direction l'axe des ordonnées au voisinage de $\pm\infty$

iii- si $\lim_{x \rightarrow \pm\infty} \frac{f(x)}{x} = a$ et $\lim_{x \rightarrow \pm\infty} f(x) - ax = \pm\infty$, alors on dit que la courbe (C_f) admet une branche parabolique de direction la droite $y=ax$ au voisinage de $\pm\infty$

4-2-2-EXEMPLE

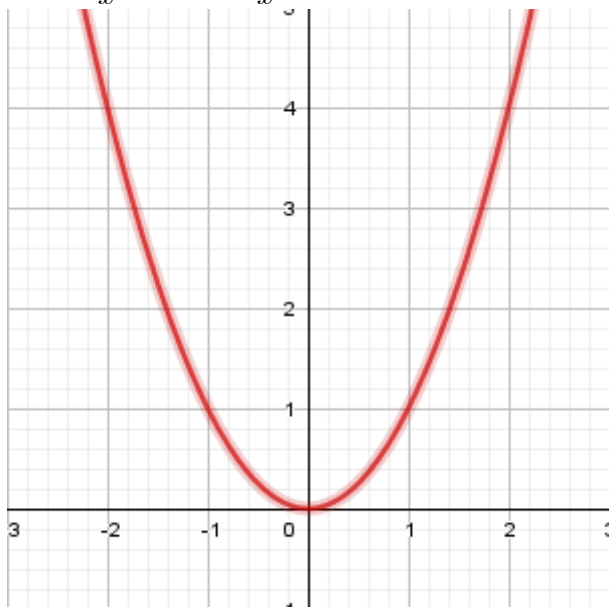
1- $f(x) = \sqrt{x}$

$$\lim_{x \rightarrow +\infty} \frac{f(x)}{x} = \lim_{x \rightarrow +\infty} \frac{\sqrt{x}}{x} = \lim_{x \rightarrow +\infty} \frac{1}{\sqrt{x}} = 0$$



2- $f(x) = x^2$

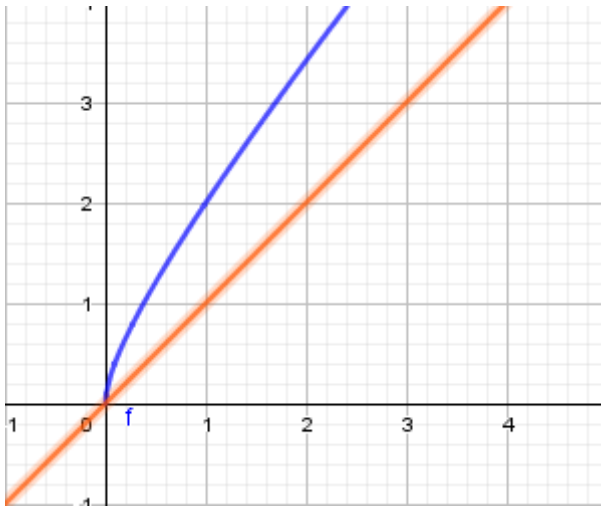
$$\lim_{x \rightarrow +\infty} \frac{f(x)}{x} = \lim_{x \rightarrow +\infty} \frac{x^2}{x} = \lim_{x \rightarrow +\infty} x = +\infty$$



3- $f(x) = x + \sqrt{x}$

$$\lim_{x \rightarrow +\infty} \frac{f(x)}{x} = \lim_{x \rightarrow +\infty} \frac{x + \sqrt{x}}{x} = \lim_{x \rightarrow +\infty} 1 + \frac{1}{\sqrt{x}} = 1$$

$$\lim_{x \rightarrow +\infty} f(x) - x = \lim_{x \rightarrow +\infty} \sqrt{x} = +\infty$$



4-4-3-EXERCICE

Soit $f(x) = \sqrt{x+1} - x + 1$

- 1- déterminer D_f et calculer les limites aux bornes de D_f
- 2- étudier la dérivabilité de f au point (-4) , et donner une interprétation géométrique au résultat
- 3- étudier les variations de f
- 4- étudier les branches infinies de la courbe (C_f) , tracer (C_f)
- 5- Soit g une restriction de f sur l'intervalle $[-\frac{15}{5}, +\infty[$
 - a- montrer que g admet une fonction réciproque
 - b- déterminer g^{-1} , et tracer $(C_{g^{-1}})$

5- LA CONCAVITE DE LA COURBE-POINT D'INFLEXION

5-1-PROPRIETE

Soit f une fonction deux fois dérivable sur un intervalle I , et x_0 un élément de I

- i- si $(\forall x \in I) f''(x) \geq 0$, alors (C_f) est convexe sur I
- ii- si $(\forall x \in I) f''(x) \leq 0$, alors (C_f) est concave sur I
- iii- si $f''(x_0) = 0$ et f'' change de signe au voisinage de x_0 , alors $A(x_0, f(x_0))$ est un point d'inflexion de la courbe (C_f)

x	x_0		
$f''(x)$	-	0	+
(C_f)		point d'inflexion	

5-2-EXERCICE

Soit $f(x) = |x|\sqrt{x^2 - 1}$

DERIVEE ET ETUDE DE FONCTION

- 1-déterminer D_f , et étudier la parité de f , calculer la limite de f à $+\infty$
- 2- étudier la dérivabilité de f au point (1), et interpréter géométriquement le résultat
- 3-étudier les variations de f sur $]1, +\infty[$
- 4- étudier la concavité de f sur $]1, +\infty[$
- 5- étudier le point d'intersection de (C_f) et la droite $y = x$ si x est positif
- 6- étudier les branches infinies, et tracer (C_f)
- 7- Soit g la restriction de f sur $[1, +\infty[$
 - a-montrer que g admet une fonction réciproque
 - b- soit g^{-1} la fonction réciproque de g , calculer $(g^{-1})'(\sqrt{2})$
 - c-déterminer $g^{-1}(x)$ et tracer $(C_{g^{-1}})$

6-AXE DE SYMETRIE- CENTRE DE SYMETRIE

6-1-PROPRIETE

Soit f une fonction définie sur D , et (C_f) sa courbe dans un repère orthonormé (O, \vec{i}, \vec{j}) .

a et b deux réels, on a

i- la droite $x=a$ est un axe de symétrie de la courbe (C_f) , si $f(2a-x)=f(x)$

ii- le point $\Omega(a, b)$ est un centre de symétrie de la courbe (C_f) , si $f(2a-x)=2b-f(x)$

6-2-EXERCICE

Soit $f(x) = \frac{x + \sqrt{x^2 - 4}}{x}$

- 1- déterminer D_f et calculer les limites aux bornes de D_f
- 2- montrer que $\Omega(0,1)$ est un centre de symétrie de (C_f)
- 3-étudier les branches infinies
- 4- étudier la dérivabilité de f aux points (2) et (-2), et interpréter géométriquement le résultat
- 5- étudier les variations de f
- 6- tracer (C_f)

EX1

- 1- Comparer $\sqrt[3]{11}$ et $\sqrt{5}$
- 2- résoudre dans \mathbb{R} , l'équation $\sqrt[3]{x+5} + \sqrt[3]{x+6} = \sqrt[3]{2x+11}$
- 3- résoudre dans \mathbb{R} l'inéquation $\sqrt[3]{2x} + \sqrt[3]{x-4} \geq 2$
- 4- simplifier le nombre B tel que $B = \sqrt[3]{3\sqrt{21}+8} - \sqrt[3]{3\sqrt{21}-8}$
- 5- calculer les limites suivantes:

i -
$$\lim_{x \rightarrow +\infty} \frac{\sqrt[3]{x}}{\sqrt[3]{x} + \sqrt[3]{x^2}}$$

ii -
$$\lim_{x \rightarrow 0} \frac{\sqrt[3]{x+1} - 1}{\sin x}$$

iii -
$$\lim_{x \rightarrow +\infty} \sqrt[4]{x+1} - \sqrt[3]{x+2}$$

EX2

Soit $f(x) = \frac{x}{\sqrt[3]{x^2+1}}$

- 1- déterminer D_f
- 2- calculer les limites de f aux $\pm\infty$
- 3-étudier les variations de f
- 4- déduire que f admet une fonction réciproque définit sur J qu'il faut déterminer
- 5- résoudre l'équation suivante:

$$f^{-1}\left(\sqrt[3]{\frac{x^2}{2}}\right) = x$$

EX3

Soit f une fonction définit sur \mathbb{R} par:

$$\begin{cases} f(x) = \sqrt[3]{1-x} & , x < 0 \\ f(x) = \frac{1}{1+\sqrt{x}} & , x \geq 0 \end{cases}$$

- 1- montrer que f est continue au point 0
- 2- calculer $\lim_{x \rightarrow +\infty} f(x)$, $\lim_{x \rightarrow -\infty} f(x)$
- 3- calculer $\lim_{x \rightarrow -\infty} \frac{f(x)}{x}$, et interpréter géométriquement le résultat
- 4- étudier la dérivabilité de f au point 0, puis interpréter géométriquement le résultat

- 5-étudier les variations de f
- 6- soit h la restriction de f sur $I = \mathbb{R}^+$
 - i- montrer que h admet une fonction réciproque h^{-1} définit sur l'intervalle J qu'il faut déterminer, puis calculer $(h^{-1})'\left(\frac{1}{2}\right)$
 - ii- déterminer la fonction h^{-1} pour tout x de J
 - iii- tracer les courbes (C_f) et $(C_{h^{-1}})$ dans un même repère orthonormé

EX4

Soit $f(x) = \sqrt[3]{x^3 - 3x + 2}$

- 1- calculer f(1), puis déduire D_f
- 2- calculer $\lim_{x \rightarrow +\infty} f(x)$
- 3- étudier la dérivabilité de f aux points (1) et (-2), puis donner l'interprétation géométrique du résultat
- 4- calculer $f'(x)$ pour tout $x \in]-2, 1[\cup]1, +\infty[$
- 5- donner le tableau de variation de f
- 6- Soit g la restriction de f sur $[1, +\infty[$
 - a- montrer que g admet une fonction réciproque g^{-1} définit sur un intervalle J qu'il faut déterminer
 - b- calculer $(g^{-1})'(\sqrt[3]{4})$
- 7- a-étudier les branches infinies de (C_f)
 - b- tracer (C_f) et $(C_{g^{-1}})$

EX5

Soit $f(x) = \sqrt[3]{x}(\sqrt[3]{x}-1)$

- 1- déterminer D_f
- 2- calculer $\lim_{x \rightarrow +\infty} f(x)$
- 3-étudier la dérivabilité de f au point 0, puis déduire l'interprétation géométrique du résultat
- 4-a- calculer f'(x)
 - b- donner le tableau de variation de f
- 5-a- étudier les branches infinies de (C_f)
 - b- tracer (C_f)

